

◇◇ <地図記号 練習問題> No. 1 ◇◇

・次の記号は何を表す地図記号か答えなさい。

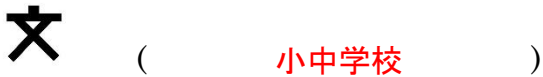
(1) (2)と似ているね！しっかり区別して覚えよう(^▽^)→



(3) (4)と似ているね！ばっちり区別して覚えよう(≥▽≤)→

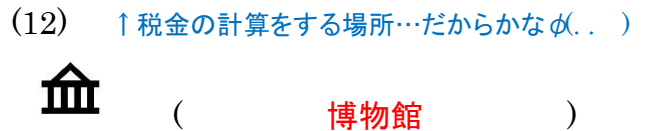


(5) (6)と似ているね！がっちり区別して覚えよう(@▽@)→



(9) ◇警察・消防・税務「署」だよ。「所」と書かないようにね！

(10) ◇読みは「ぜいむしょ」記号は「そろばん」の形だね！

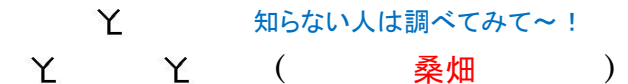


(15) ◇家の中にあるのは、何の形かな？



(19) ◇読みは「かじゅえん」果物の形の記号だね♪

(20) ◇「くわばたけ」知ってるかな～？？



(21) ◇「広葉樹」は、大ざっぱに言うと、幅が広くて平べったい葉っぱを持つ木のことだよ。

(22) ◇「針葉樹」は、針のようにとがった葉を持つ木のこと。例えば「松」なんかがそうだね。

