

◇◇ <地図記号 練習問題> No. 1 ◇◇

・次の記号は何を表す地図記号か答えなさい。

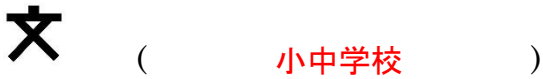
(1) (2)と似ているね！しっかり区別して覚えよう(^▽^)→



(3) (4)と似ているね！ばっちり区別して覚えよう(≥▽≤)→

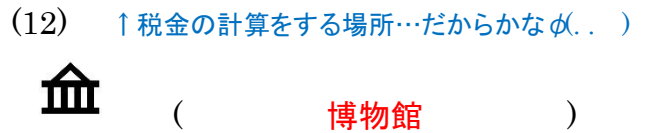


(5) (6)と似ているね！がっちり区別して覚えよう(@▽@)→



(9) ◇警察・消防・税務「署」だよ。「所」と書かないようにね！

(10) ◇読みは「ぜいむしょ」記号は「そろばん」の形だね！

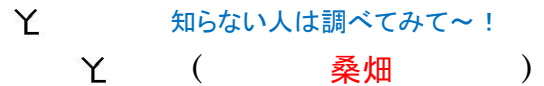


(15) ◇家の中にあるのは、何の形かな？



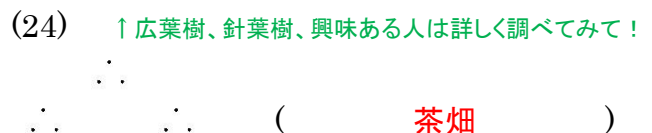

(19) ◇読みは「かじゅえん」果物の形の記号だね♪

(20) ◇「くわばたけ」知ってるかな～？？

















(21) ◇「広葉樹」は、大ざっぱに言うと、幅が広くて平べったい葉っぱを持つ木のことだよ。

(22) ◇「針葉樹」は、針のようにとがった葉を持つ木のこと。例えば「松」なんかがそうだね。



◇◇ <地図記号 練習問題> No. 2 ◇◇

・次の記号は何を表す地図記号か答えなさい。

- | | | | | | |
|------|---|----------------------------|------|---|-----------|
| (1) |  | (神社) | (2) |  | (高等学校) |
| (3) |  | (博物館) | (4) |  | (警察署) |
| (5) |  | (発電所) | (6) |  | (老人ホーム) |
| (7) |  | (税務署) | (8) |  | (病院) |
| (9) |  | (郵便局) | (10) |  | (小中学校) |
| (11) |  | (市役所) | (12) |  | (消防署) |
| (13) |  | (工場) | (14) |  | (交番) |
| (15) |  | (図書館) | (16) |  | (寺(寺院)) |
| (17) |  | (畑) | (18) |  | (田) |
| (19) |  | ◇読みは「しんようじゅりん」
(針葉樹林) | (20) |  | (荒地) |
| (21) |  | (茶畑) | (22) |  | (桑畑) |
| (23) |  | ◇読みは「こうようじゅりん」
(広葉樹林) | (24) |  | (果樹園) |